

## सम और विशम संख्या

1) नीचे दी गई विशम संख्याओं पर गोला लगाएँ ।

15 16 52 45 79 80 11 49 60  
12 39 78 77 45 12 99 59 10

2) नीचे दी गई सम संख्याओं पर गोला लगाएँ ।

45 22 10 88 46 21 79 46 20  
49 46 22 79 50 42 68 88 98

3) नीचे दी गई तालिका में विशम संख्याओं को लाल और सम संख्याओं को नीला रंग भरें ।

12	55	49	06	81	44
46	100	26	55	77	65
68	46	40	61	26	55
23	48	98	05	19	84
98	15	81	39	20	49



नीचे दिए गए सम एवं विशम संख्याओं के  
अनुक्रम को पूरा करें ।

1) 78, 76, 74, 72	70	68	66	64
2) 33, 35, 37, 39				
2) 22, 26, 30, 34				
2) 11, 13, 15, 17				
2) 55, 57, 59, 61				
2) 10, 12, 14, 16				
2) 04, 08, 12, 16				
2) 81, 85, 89, 93				
2) 44, 46, 48, 50				
2) 93, 95, 97, 99				



## बूझो तो जाने

1) नीचे दिए गए अनुक्रम में अलग संख्या का चुनाव करें |

89, 11, 35, 57, 92, 99

a) 99

b) 92

c) 89

d) इनमें से कोई भी नहीं

2) नीचे दिए गए अनुक्रम में अलग संख्या का चुनाव करें |

51, 64, 78, 92, 104, 116

(a) 51

(b) 78

(c) 104

(d) इनमें से कोई भी नहीं

3) नीचे दिए गए कथन का प्रयोग कर अबू के लकी नंबर का पता लगाएँ |

क) 12 ख) 47 ग) 42 घ) 68

संकेत चिन्ह :

क) यह एक सम संख्या है।

ख) यह साल में महीनों की संख्या के बराबर नहीं है।

ग) यह 40 से ज्यादा और 60 से कम है।



Q4) अंको का प्रयोग कर :

- क) 4 अंको की सबसे छोटी सम संख्या बनाओ
- ख) 4 अंको की सबसे बड़ी विशम संख्या बनाओ

Q4) अंको का प्रयोग कर :

- क) 4 अंको की सबसे छोटी संख्या बनाओ
- ख) 4 अंको की सबसे बड़ी संख्या बनाओ

Q7) नीचे दिए गए 3 अंको की संख्याओं के स्थान को बदलकर सबसे छोटी संख्या बनाएँ।

- क) 315
- ख) 471
- ग) 476
- घ) 339




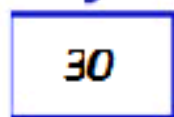



Q6) नीचे दिए गए अंको का प्रयोग कर 3 अंको की सबसे बड़ी संख्या बनाएँ।

- क) 5, 8, 6
- ख) 2, 7, 0
- ग) 4, 7, 3
- घ) 6, 0, 8



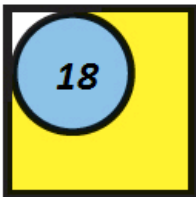
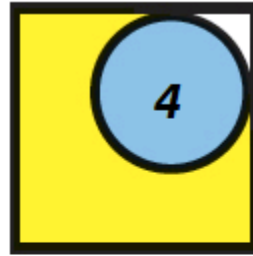

अनुक्रम को पूरा करें।

क)

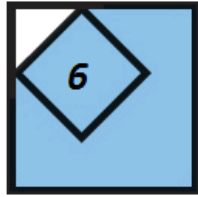
  20	  30
  10	




ख)



①



②



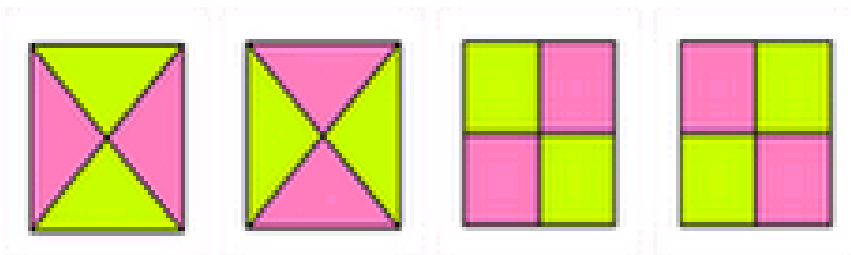
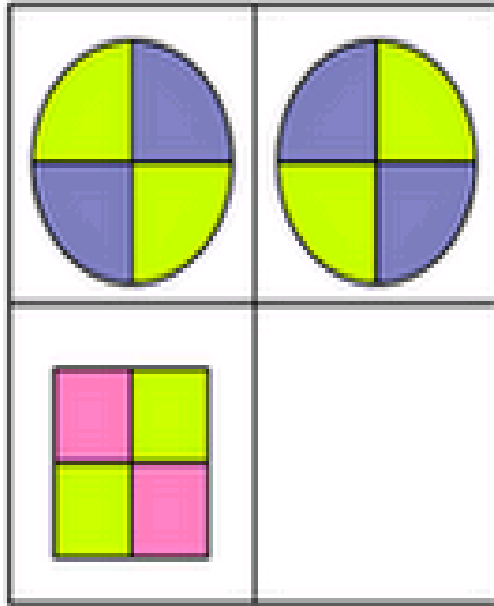
③



④



ग)



A

B

C

D



घ)

